

これでいくら？（お札もある）



小2～3/ぜんぶで8もん



なまえ _____

ひづけ _____



(1)     = _____ 円

(2)     = _____ 円

(3)   = _____ 円

(4)     = _____ 円

(5)     = _____ 円

(6)   = _____ 円

(7)    = _____ 円

(8)   = _____ 円