

これでいくら？ (お札もある)

小2~3/ぜんぶで8もん





なまえ _____

ひづけ _____

(1)     = _____ 円

(2)   = _____ 円

(3)     = _____ 円

(4)     = _____ 円

(5)     = _____ 円

(6)   = _____ 円

(7)    = _____ 円

(8)     = _____ 円