



これでいくら？ (お札もある)

小2~3/ぜんぶで8もん

なまえ _____

ひづけ _____

(1)   = _____ 円

(2)    = _____ 円





(3)   = _____ 円

(4)   = _____ 円

(5)   = _____ 円

(6)    = _____ 円

(7)     = _____ 円

(8)     = _____ 円