



これでいくら？ (お札もある)





小2~3/ぜんぶで8もん

なまえ _____

ひづけ _____

(1)   = _____ 円



(2)   = _____ 円



(3)     = _____ 円

(4)    = _____ 円

(5)    = _____ 円

(6)    = _____ 円

(7)   = _____ 円

(8)   = _____ 円