

# 小数の大きさくらべ (1)

が  にち

小数の大きさを比べてみよう！



なまえ \_\_\_\_\_

1 ☒ □に当てはまる不等号をかきましょう。

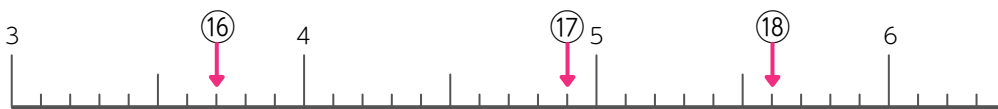
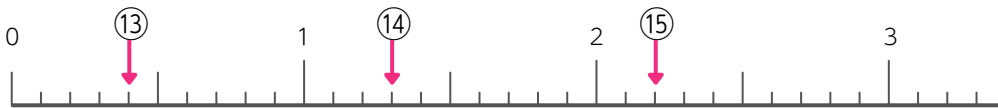
① 1.4  1.6    ⑤ 2.2  3.2    ⑨ 0.9  0.7

② 1.2  0.5    ⑥ 4.6  3.9    ⑩ 2.8  1.9

③ 1.7  0.5    ⑦ 3.5  6.5    ⑪ 6.7  2.7

④ 2.3  1.8    ⑧ 8.2  0.9    ⑫ 1.5  5.1

2 ☒ 下の直線の⑬～⑱にあたる小数を書きましょう。



⑬                      ⑭                      ⑮                      ⑯                      ⑰                      ⑱



# 小数の大きさくらべ (2)

が  にち

小数の大きさを比べてみよう！



なまえ \_\_\_\_\_

1 ☒ □に当てはまる不等号をかきましょう。

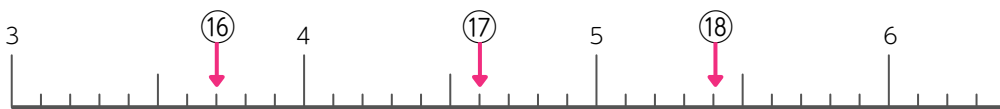
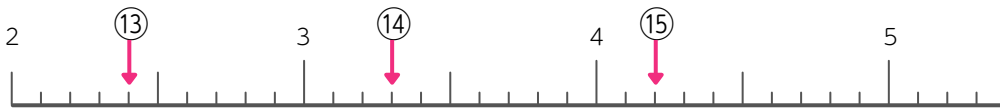
①  $0.5$    $0.8$     ⑤  $1.6$    $2.6$     ⑨  $3.2$    $2.3$

②  $0.8$    $8.1$     ⑥  $1.5$    $4.5$     ⑩  $6.7$    $7.6$

③  $8.9$    $1.9$     ⑦  $2.4$    $7.1$     ⑪  $3.3$    $0.3$

④  $1.7$    $0.4$     ⑧  $6.6$    $4.4$     ⑫  $2.8$    $8.2$

2 ☒ 下の直線の⑬～⑱にあたる小数を書きましょう。



⑬                      ⑭                      ⑮                      ⑯                      ⑰                      ⑱



# 小数の大きさくらべ (3)

が  にち

小数の大きさを比べてみよう!



なまえ \_\_\_\_\_

1 ☒ □に当てはまる不等号をかきましょう。

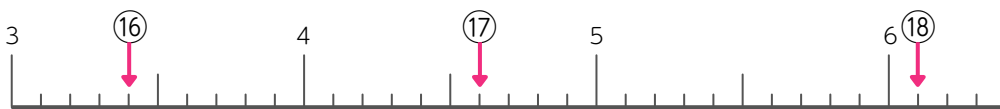
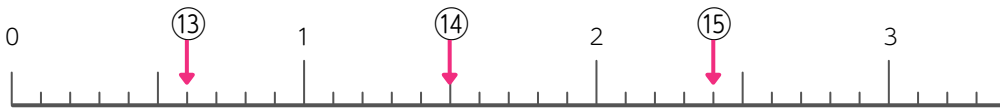
①  $7.4$    $1.4$     ⑤  $6.2$    $2.6$     ⑨  $0.5$    $1.5$

②  $7.5$    $2.9$     ⑥  $9.3$    $9.9$     ⑩  $0.4$    $0.6$

③  $8.8$    $2.1$     ⑦  $3.6$    $3.4$     ⑪  $2.6$    $2.7$

④  $1.7$    $7.6$     ⑧  $5.1$    $2.8$     ⑫  $4.2$    $5.7$

2 ☒ 下の直線の⑬～⑱にあたる小数を書きましょう。



⑬                      ⑭                      ⑮                      ⑯                      ⑰                      ⑱



# 小数の大きさくらべ (4)

が  にち

小数の大きさを比べてみよう！



なまえ \_\_\_\_\_

1 ☒ □に当てはまる不等号をかきましょう。

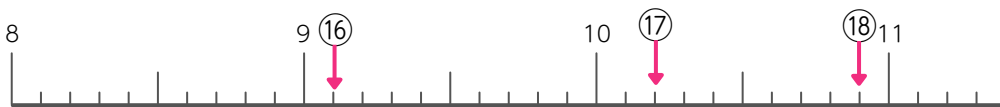
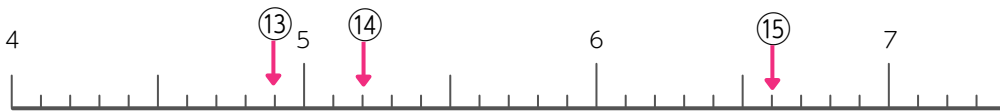
①  $6.6$    $1.6$     ⑤  $3.1$    $3.2$     ⑨  $0.9$    $0.3$

②  $1.2$    $1.1$     ⑥  $4.6$    $2.6$     ⑩  $1.8$    $0.8$

③  $1.7$    $5.6$     ⑦  $9.9$    $10.1$     ⑪  $2.7$    $1.5$

④  $7.8$    $8.7$     ⑧  $9.2$    $2.9$     ⑫  $4.1$    $1.4$

2 ☒ 下の直線の⑬～⑱にあたる小数を書きましょう。



⑬                      ⑭                      ⑮                      ⑯                      ⑰                      ⑱



# 小数の大きさくらべ (5)

が  にち

小数の大きさを比べてみよう!



なまえ \_\_\_\_\_

1 ☒ □に当てはまる不等号をかきましょう。

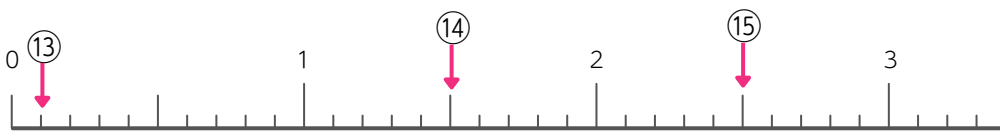
①  $5.7$    $1.7$     ⑤  $4.3$    $3.4$     ⑨  $0.8$    $0.5$

②  $1.4$    $2.4$     ⑥  $8.6$    $6.9$     ⑩  $5.2$    $2.5$

③  $8.8$    $9.8$     ⑦  $6.4$    $6.5$     ⑪  $2.8$    $2.7$

④  $0.6$    $0.5$     ⑧  $1.3$    $3.1$     ⑫  $9.4$    $8.5$

2 ☒ 下の直線の⑬～⑱にあたる小数を書きましょう。



⑬                      ⑭                      ⑮                      ⑯                      ⑰                      ⑱

